

## TÜRKÇE SORULARI

### GÜZ

Yorulmuştu yapraklar,  
Sarıp solmuşlar.  
Düşerken toprağa,  
Rüzgâra sarılmışlar.

Göç ediyor leylekler,  
Yuvasına çekilir böcekler.  
Kara bulutlardan,  
Çakıyordu şimşekler.  
HÜSNÜ YAVUZ

**1. Soru:** Yukarıda okuduğunuz şiirde hangi mevsim anlatılmıştır?

- A) İlkbahar                      B) Sonbahar                      C) Kış

**2. Soru:** Şiirde geçen “Kara” kelimesinin eş anlamlısı aşağıdakilerden hangisidir?

- A) Beyaz                      B) Toprak                      C) Siyah

**3. Soru:** Yandaki resmi aşağıdaki kelimelerden hangisi daha iyi ifade eder?

- A) Yardımseverlik  
B) Komşuluk  
C) Gezinti



**4. Soru:** Medine: Ninemlere sabah gidip, akşam geldim.  
Göksel: Kuzenlerimle sokakta saklambaç oynadık.  
Yağmur: Sıcak yemeklerin soğumasını bekledik.

Yukarıdaki cümleleri söyleyen çocuklardan hangisi zıt anlamlı kelimeleri bir arada kullanmamıştır?

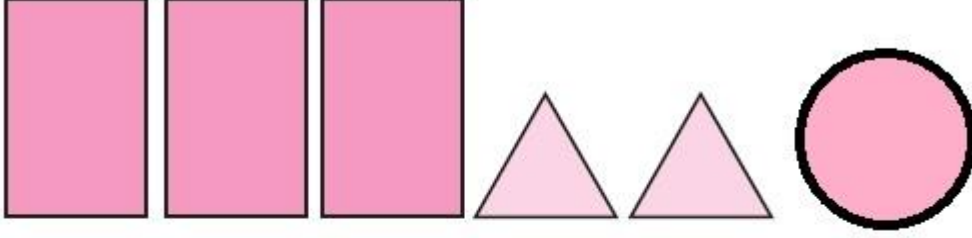
- A) Medine                      B) Göksel                      C) Yağmur

**5. Soru:** Balonları birer birer patlattı( )  
Dün hava soğuk muydu( )  
Eyvah ödevimi evde unuttum( )

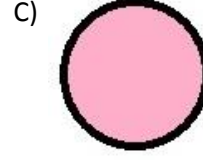
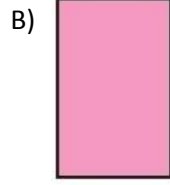
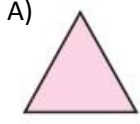
Yukarıdaki cümlelerin sonuna sırasıyla hangi noktalama işaretleri gelmelidir?

- A)Nokta(.)Soru işareti(?)Kesme işareti (-)    B) Nokta(.)Virgül(,)Ünlem    C) Nokta(.)Soru işareti(?)Ünlem(!)

## MATEMATİK SORULARI



1. Soru: Yukarıda şekillerden üçgen prizma oluşturulursa hangi şekil kullanılmaz?



2. Soru:

**909**

**Diyar:** Bu sayının yüzler ve onlar basamağının sayı değerleri eşittir ve sayı 'dokuz yüz dokuz' şeklinde okunur.

**Ahmet:** Yüzler basamağının basamak değeri doksan olduğu için bu sayı 'doksan dokuz' diye okunur.

**İlknur:** Onlar basamağının basamak değeri 'sıfır' olduğundan bu sayı 'dokuz yüz dokuz'dur.

Yukarıda verilen sayıyı hangi öğrenci yanlış okumuştur?

A) Diyar

B) Ahmet

C) İlknur

3. Soru:

**427 : Dört yüz yetmiş iki**

Verilen sayının okunuşunun doğru olması için aşağıdakilerden hangisini yapmalıyız?

A) Yüzler ve onlar basamaklarındaki sayıların yerini değiştirmeliyiz.

B) Yüzler ve birler basamaklarındaki sayıların yerlerini değiştirmeliyiz.

C) Onlar ve birler basamaklarındaki sayıların yerlerini değiştirmeliyiz.

4. Soru: I.Üç basamaklı en büyük sayı,

II.İki basamaklı en büyük sayı,

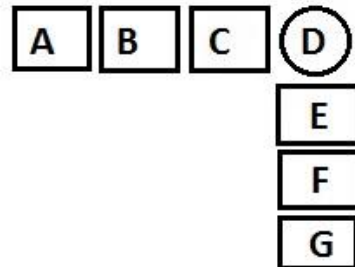
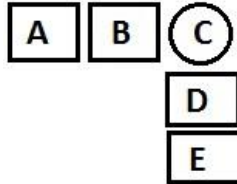
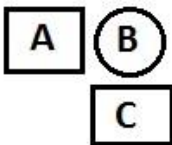
III.Üç basamaklı en küçük sayı

Yukarıdaki sayılar büyükten küçüğe doğru sıralanırsa aşağıdakilerden hangisi doğru olur?

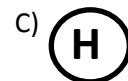
A) I > II > III

B) I > III > II

C) III > I > II



5. Soru: Yukarıdaki örüntü genişletilirse bir sonraki adımda daire içine hangi harf yazılır?



## HAYAT BİLGİSİ SORULARI

**1. Soru:** Ceylan'ın kuzenlerinden küçük olanı sürekli Ceylan'ın odasını dağıtıyor. Bazen oyuncaklarını kırıyor. Ceylan bu durumu çözmek için aşağıdakilerden hangisini yapmalıdır?

- A) Kuzenini bir daha odasına almamalıdır.
- B) Ağlayarak gidip annesine şikâyet etmeli.
- C) Sabırlı olup, kuzenine yaptığıının yanlış olduğunu anlatmalıdır.

**2. Soru:** Aşağıdakilerden hangisi okuldaki demokratik uygulamalara örnek olamaz?


- A) Sınıf başkanının seçimle belirlenmesi.
- B) Okul gezisine sadece kızların katılması.
- C) Okul kantininden sırayla eşya alınması.

**3. Soru:**



Ayla

Bizim oyunlarda sadece kızlar oynayabilir.



Emir

İşitme engelli arkadaşlarımla da oyun oynarım.



Hatice

Küçük kardeşim bizimle oynayamaz.

Yukarıdaki çocuklardan hangisi yanlış davranmamıştır?

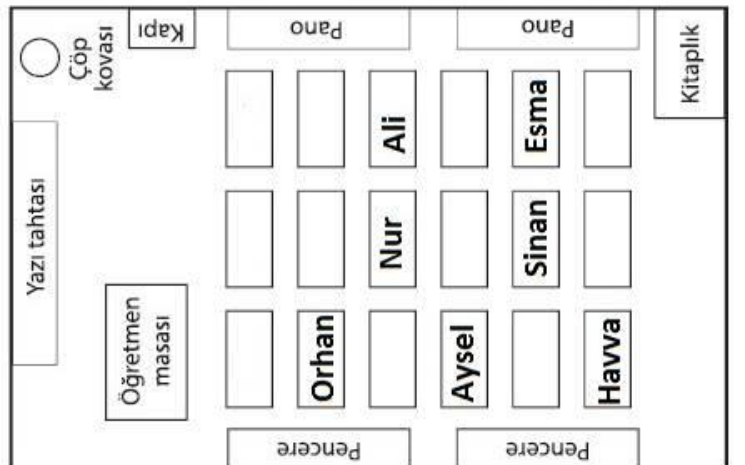
- A) Ayla
- B) Hatice
- C) Emir

**4. Soru:** Mehmet yediği tostun kâğıdını yere attığı için okul temizlik görevlisiyle sorun yaşadı. Yaşadığı sorunu ağlayarak öğretmene anlattı. Öğretmen aşağıdakilerden hangisini söylerse sorunu çözebilir?

- A) Okul temizlik görevlisi seni ağlattığı için özür dilemeli.
- B) Yere çöp atmak kurallarımıza aykırı olduğu için temizlik görevlisinden özür dilemelisin.
- C) Yerlerdeki çöpleri sadece temizlik görevlisi toplamalı.

**5. Soru:** Musa'nın kardeşi, yanda krokisi verilen sınıfta pencere kenarında, öğretmen masasının karşısında dördüncü sırada oturuyor. Buna göre Musa'nın kardeşinin adı nedir?

- A) Orhan
- B) Nur
- C) Aysel



## FEN BİLİMLERİ SORULARI

1. **Soru:** Yan taraftaki Dünya modeline bakan Meryem, Dünya modelinde mavi rengin daha fazla kullanıldığını söylüyor.

Buna göre Meryem aşağıdakilerden hangisini belirtmek istemiştir?

- A) Sular, mavi renkle boyanır.
- B) Karalar, denizlerden daha fazla alan kaplar.
- C) Dünya'nın yüzeyinde sular daha fazla yer kaplar.



2. **Soru:** "Hamit öğretmenin sınıfından gelen müziği duyan Abdullah oynamaya başladı. Abdullah'ı gören Necati de gülerek oynadı."

Yukarıdaki öğrenciler hangi duyu organını kullanmamıştır?

- A) Burun, Deri
- B) Göz, Deri
- C) Kulak, Deri

3. **Soru:** "Kadir Zinar, buzdolabından çıkardığı dondurma soğuk olduğu için fazla tutamadı."

Kadir Zinar dondurmanın soğuk olduğunu hangi duyu organıyla anlamıştır?

- A) Göz
- B) Dil
- C) Deri

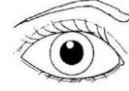
4. **Soru:**

a. Mutfaktaki kekin kokusu

b. Yüksekten uçan kuşlar

c. Banyodaki açık musluğun sesi

I.



II.



III.



Yukarıdaki bilgiler ve duyu organları eşleştirilirse sonuç aşağıdakilerden hangisi olur?

A) a-I, b-II, c-III

B) a-III, b-I, c-II

C) a-II, b-III, c-I

5. **Soru:**

İşitme duyu organımızdır.

Gürültülü ortamlarda sağlığı bozulabilir.

Sivri uçlu cisimlerle karıştırılmamalıdır.

Yan tarafta bahsedilen duyu organımız hangisidir?

- A) Deri
- B) Dil
- C) Kulak

**1. Soru:** One-Two-Three-.....-Five-Six- ..... -Eight-Nine-Ten

Yukarıdaki boşluklara sırayla aşağıdakilerden hangisi yazılmalıdır?

- A) Eight-Nine
- B) Four-Four
- C) Four-Seven

**2. Soru:** ..... run in the classroom.

Boşluğa gelmesi gereken ifadeyi işaretleyiniz.

- A) Can
- B) Do
- C) Don't


**3. Soru:**



Grandfather



Brother



Sister

Yukarıdakilerden hangisi yanlış isimlendirilmiştir?

- A) Grandfather
- B) Brother
- C) Sister

**4. Soru:** Aşağıdakilerden hangisi diğerlerinden farklıdır?

- A) Father
- B) Daughter
- C) Table

**5 Soru:** Huriye is my ..... ..Derin is my sister.

Yukarıda boş bırakılan yere aşağıdakilerden hangisi gelmelidir?

- A) Mother
- B) Father
- C) Brother

..... İLKOKULU  
I. DÖNEM DENEME SINAVI  
OPTİK FORMU

KURUM VE ÖĞRENCİ BİLGİLERİ  
ADI SOYADI: .....  
SINIF ŞUBE : .....  
OKUL ADI:.....  
İLİ : .....  
İLÇESİ:.....

ÖRNEK KODLAMA	ÖĞRENCİ NO				SINIF	ŞUBE
● DOĞRU	0	0	0	0	1	A
⊗ YANLIŞ	1	1	1	1	2	B
● YANLIŞ	2	2	2	2	3	C
● YANLIŞ	3	3	3	3	4	D
● YANLIŞ	4	4	4	4		E
● YANLIŞ	5	5	5	5		F
● YANLIŞ	6	6	6	6		G
● YANLIŞ	7	7	7	7		H
● YANLIŞ	8	8	8	8		I
● YANLIŞ	9	9	9	9		

ADI - SOYADI (Adı ve Soyadı arasında bir kare boşluk bırakınız.)																									
A	A	A	A	A	A	A	A	A	A	A	A	A	A	A	A	A	A	A	A	A	A	A	A	A	A
B	B	B	B	B	B	B	B	B	B	B	B	B	B	B	B	B	B	B	B	B	B	B	B	B	B
C	C	C	C	C	C	C	C	C	C	C	C	C	C	C	C	C	C	C	C	C	C	C	C	C	C
D	D	D	D	D	D	D	D	D	D	D	D	D	D	D	D	D	D	D	D	D	D	D	D	D	D
E	E	E	E	E	E	E	E	E	E	E	E	E	E	E	E	E	E	E	E	E	E	E	E	E	E
F	F	F	F	F	F	F	F	F	F	F	F	F	F	F	F	F	F	F	F	F	F	F	F	F	F
G	G	G	G	G	G	G	G	G	G	G	G	G	G	G	G	G	G	G	G	G	G	G	G	G	G
H	H	H	H	H	H	H	H	H	H	H	H	H	H	H	H	H	H	H	H	H	H	H	H	H	H
I	I	I	I	I	I	I	I	I	I	I	I	I	I	I	I	I	I	I	I	I	I	I	I	I	I
J	J	J	J	J	J	J	J	J	J	J	J	J	J	J	J	J	J	J	J	J	J	J	J	J	J
K	K	K	K	K	K	K	K	K	K	K	K	K	K	K	K	K	K	K	K	K	K	K	K	K	K
L	L	L	L	L	L	L	L	L	L	L	L	L	L	L	L	L	L	L	L	L	L	L	L	L	L
M	M	M	M	M	M	M	M	M	M	M	M	M	M	M	M	M	M	M	M	M	M	M	M	M	M
N	N	N	N	N	N	N	N	N	N	N	N	N	N	N	N	N	N	N	N	N	N	N	N	N	N
O	O	O	O	O	O	O	O	O	O	O	O	O	O	O	O	O	O	O	O	O	O	O	O	O	O
P	P	P	P	P	P	P	P	P	P	P	P	P	P	P	P	P	P	P	P	P	P	P	P	P	P
Q	Q	Q	Q	Q	Q	Q	Q	Q	Q	Q	Q	Q	Q	Q	Q	Q	Q	Q	Q	Q	Q	Q	Q	Q	Q
R	R	R	R	R	R	R	R	R	R	R	R	R	R	R	R	R	R	R	R	R	R	R	R	R	R
S	S	S	S	S	S	S	S	S	S	S	S	S	S	S	S	S	S	S	S	S	S	S	S	S	S
T	T	T	T	T	T	T	T	T	T	T	T	T	T	T	T	T	T	T	T	T	T	T	T	T	T
U	U	U	U	U	U	U	U	U	U	U	U	U	U	U	U	U	U	U	U	U	U	U	U	U	U
V	V	V	V	V	V	V	V	V	V	V	V	V	V	V	V	V	V	V	V	V	V	V	V	V	V
Y	Y	Y	Y	Y	Y	Y	Y	Y	Y	Y	Y	Y	Y	Y	Y	Y	Y	Y	Y	Y	Y	Y	Y	Y	Y
Z	Z	Z	Z	Z	Z	Z	Z	Z	Z	Z	Z	Z	Z	Z	Z	Z	Z	Z	Z	Z	Z	Z	Z	Z	Z
.	.	.	.	.	.	.	.	.	.	.	.	.	.	.	.	.	.	.	.	.	.	.	.	.	.

TÜRKÇE	MATEMATİK	HAYAT BİLGİSİ	FEN BİLİMLERİ	İNGİLİZCE
1. (A) (B) (C)	1. (A) (B) (C)	1. (A) (B) (C)	1. (A) (B) (C)	1. (A) (B) (C)
2. (A) (B) (C)	2. (A) (B) (C)	2. (A) (B) (C)	2. (A) (B) (C)	2. (A) (B) (C)
3. (A) (B) (C)	3. (A) (B) (C)	3. (A) (B) (C)	3. (A) (B) (C)	3. (A) (B) (C)
4. (A) (B) (C)	4. (A) (B) (C)	4. (A) (B) (C)	4. (A) (B) (C)	4. (A) (B) (C)
5. (A) (B) (C)	5. (A) (B) (C)	5. (A) (B) (C)	5. (A) (B) (C)	5. (A) (B) (C)

BU ALANI ÖĞRETMENLER DOLDURACAK					
DERSLER	DOĞRU	YANLIŞ	BOŞ	NET	PUAN
TÜRKÇE					
MATEMATİK					
HAYAT BİLGİSİ					
FEN BİLİMLERİ					
İNGİLİZCE,					

SINAVA KATILAN ÖĞRENCİ SAYISI

SINIF SIRALAMASI

SINAVDAN ALDIĞI TOPLAM PUAN